



General Knowledge

Sample 2

English



Name the following pictures.



Ask any 3, of which 2 must be correct

Math 1

Tell the time



Ask any 1, which must be correct

Urdu

عالی کا بستہ اس سے کیوں ناراض تھا؟ Q1

عالی کے بستے نے کس پر چھلانگ لگائی؟ Q2

Pashto

ګلالی په کوم جماعت کښې سبق وائی؟ Q1

هغې په اسمان کښې څه ولیدو؟ Q2

Sindhi


بادشاو وٽ ڇا خوبصورت هو؟ Q1

هو زخمي هرڻ کي ڪاپي وٺي آيو؟ Q2

Sample 2

Math 2

قیمت جدول



ہدایات :-

- یہ پہلی جماعت سے پانچویں اور اس سے اوپر کے بچوں کو دیتے اور اسکول نہ جانے والے بچوں میں 10 سے 16 سال کی عمر کے بچوں کے دیتے۔
- یہ ٹول ریاضی کے ٹول کے بعد بچوں کو دیتے۔
- ہر سوال کو پڑھ کر سنائیں کوئی بھی سوال دوسرے سے زیادہ نہ دہرائیں۔
- حل کرنے کا طریقہ نہ سمجھائیں۔
- سوال نمبر 1 اور 2 کے لئے جدول کے دامن پڑھ کر نہ سنائیں۔

مندرجہ بالا تصاویر کو دیکھیں۔ اس میں کئی چیزوں کی قیمت دی گئی ہے جیسے ایک کتاب 95 روپے کی ہے۔ انہیں دیکھ کر نیچے دیئے گئے سوالات کے جوابات دیں۔

1Q اسلم نے ایک گیند اور ایک بسکٹ خریدے۔ اس نے کل کتنی رقم ادا کی؟

2Q بانو کی امی نے 4 کپ خریدیں۔ انھوں نے کل کتنی رقم ادا کی؟